

М Красс

ИСТОРИЯ
11 КЛАСС

Шифр участника И304112

Задания для обучающихся.

Время выполнения - 90 мин.

Максимальный балл - 100

Задание 1. Напишите пропущенный термин (понятие). Ответом может быть как одно слово, так и словосочетание (10 баллов - 1 балл за ответ):

1. Восточнославянское племя, восставшее против повторного сбора дани князем Игорем? Древляне

2. Бог являвшийся покровителем скота и скотоводства и восточных славян? Велес

3. Часть города или поселение в целом, население которого было освобождено от уплаты налогов. Слобода

4. Название общины в Древней Руси? Вервь

5. Автор «Слова о законе и благодати»? Иларион

6. Кругом друзей Ивана IV фактически являющийся правительством страны в начале его правления? Избранная рада

7. Натуральный налог с народов Поволжья, Русского Севера и Сибири преимущественно пушнинной? Ясак

8. Таблица, структурирующая чины государственной службы введённая Петром Первым? Табель о рангах

9. По реформе П.А. Столыпина участок земли, после выхода крестьянина из общины, с переносом усадьбы владельца? Хутор

10. Международная организация, образованная в 1920 году для организации системы коллективной безопасности и решения споров между государствами дипломатическим путём? Лига наций

Задание 2. Установите соответствие русских правителей и событий из

Отечественной истории. За полностью правильный ответ 2 балла, одна любая ошибка 1 балл, две и более ошибок - 0 баллов.

1	Княгиня Ольга	А	Созыв Уложенной Комиссии
2	Ярослав Мудрый	Б	Отмена местничества
3	Борис Годунов	В	Упорядочение сбора дани
4	Михаил Федорович	Г	Восстание Хлопка

ИСТОРИЯ
11 КЛАСС

5	Федор Алексеевич	Д	Издание Русской Правды
6	Екатерина Вторая	Е	Поляновский мир

Ответ:

1	2	3	4	5	6
<u>В</u>	<u>Д</u>	<u>Г</u>	<u>Е</u>	<u>Б</u>	<u>А</u>

Задание 3. Заполните пропуски. За полностью правильный ответ 2 балла, одна любая ошибка 1 балл, две и более ошибок - 0 баллов.

Географический объект	Событие	Время, когда произошло событие
1	Присоединение к Московскому княжеству Английское восстание	1480-е гг.
Варшава		2
Оренбург	3	1770-е гг.

Ответ:

1	2	3
<u>Тверь.</u>	<u>1860</u>	<u>Восстание Муравьева</u>

Задание 4. Расставьте эти произведения в соответствии с хронологией описываемых событий. Ответ запишите в виде последовательности цифр. За полностью правильный ответ 2 балла, одна любая ошибка 1 балл, две и более ошибок - 0 баллов.

- «Слово о полку Игореве».
 - «Капитанская дочка».
 - «Тихий Дон».
 - «Война и мир».
 - «Житие протопопа Аввакума».
 - «Песнь о Роланде».
- Ответ: 615243

Задание 5. Какие суждения о данной марке являются верными? Выберите три суждения из пяти предложенных. Запишите цифры, под которыми они указаны. (6 баллов, По 2 балла за каждый правильный ответ):



Данная марка была выпущена в 1960-х гг.
 а) Инициатором события, которому посвящена марка, был Б. М. Хмельницкий. *165 л. 1854*
 3) Событие, изображённое на марке, происходило в Москве.
 4) Последствием события, которому посвящена марка, стала Смоленская война.

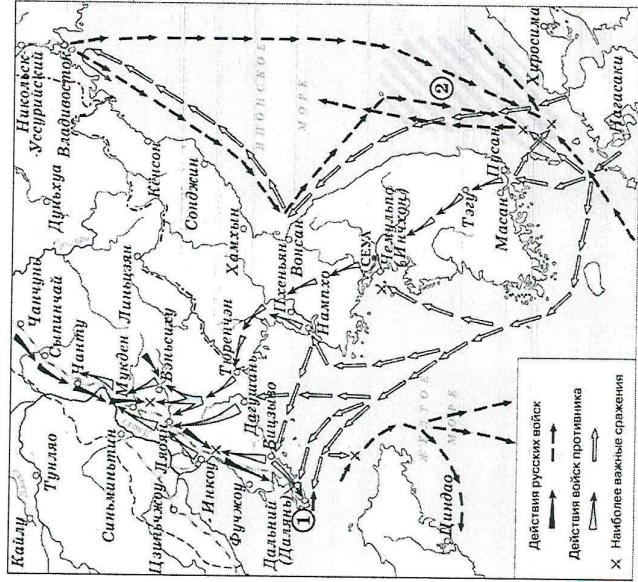
б) В год выпуска данной марки часть территории РСФСР была передана Украинской ССР.

в) 6) Царь, в правление которого происходили эти события, получил прозвище «Гнишайший».

Ответ: 256

Задание 6. Рассмотрите схему и выполните задания (6 баллов. По 1 баллу за каждый верный ответ): *1905-1904*

- Укажите имя правителя России во время войны, события которой обозначены на схеме. Николай II
- Укажите название города, обозначенного на схеме цифрой «1» Порт-Артур
- Укажите название сражения, обозначенного на схеме цифрой «2». Русско-японское сражение



4. Какие суждения, относящиеся к исторической ситуации, обозначенной на схеме, являются верными? Выберите три суждения из шести предложенных.

- А) В сражении, обозначенном цифрой «2», победу одержала эскадра Рожественского.
- Б) Город, обозначенный цифрой «1», не оказал сопротивления врагу.
- В) Договор о мире между воюющими странами был заключён при посредничестве США.
- Г) Сухопутными войсками командовал генерал Куропяткин.
- Д) Во время боевых действий погиб художник-баталист Верещагин.
- Е) По условиям заключённого мира Россия уступила Северный Сахалин.

Ответ: Г В Д *58*

Задание 7. Прочитайте текст (фрагмента выступления) и выполните задания после него (9 баллов):

Из исторического документа

[1] Помещичья собственность на землю отменяется немедленно без всякого выкупа.

2) Помещичьи имения, равно как все земли удельные, монастырские, церковные, со всем их живым и мёртвым инвентарём, усадьбами, постройками и всеми принадлежностями, переходят в распоряжение Волостных Земельных Комитетов и Уездных Советов Крестьянских Депутатов, впредь до разрешения Учредительным Собранием... <...>

4) Для руководства по осуществлению великих земельных преобразований, впредь до окончательного их решения Учредительным Собранием, должен повсюду служить следующий крестьянский наказ, составленный на основании 242 местных крестьянских наказов редакцией "Известий Всероссийского Совета крестьянских депутатов" <...>

Право частной собственности на землю отменяется навсегда, земля не может быть ни продаваема, ни покупаема, ни сдаваема в аренду либо в залог, ни каким-либо другим способом отчуждаема. Вся земля: государственная, удельная, кабинетская, монастырская, церковная, посессионная, майоратная, частновладельческая, общественная и крестьянская и т. д., отчуждается безвозмездно, обращается в всенародное достояние и переходит в пользование всех трудящихся на ней. <...>

Все недра земли, руда, нефть, уголь, соль и т. д., а также леса и воды, имеющие общегосударственное значение, переходят в исключительное пользование государства. <...>

Весь хозяйственный инвентарь конфискованных земель, живой и мёртвый, переходит в исключительное пользование государства или общины, в зависимости от величины и значения их, без выкупа. Конфискация инвентаря не касается малоземельных крестьян. <...>

Землепользование должно быть уравнительным, т. е. земля распределяется между трудящимися, смотря по местным условиям по трудовой или потребительной норме. <...>
Земельный фонд подвергается периодическим переделам в зависимости от прироста населения...

Все содеряжащееся в этом наказе, как выражение безусловной воли огромного большинства сознательных крестьян всей России, объявляется временным законом, который впредь до Учредительного Собрания проводится в жизнь по возможности немедленно...]

А) Когда (укажите месяц и год) и при каких обстоятельствах произошло оглашение этого документа? (1 балл за верное указание) Укажите название документа (1 балл). Октябрь 1917

Б) Используя текст, укажите способы (не менее двух), которыми предполагалось решить земельный вопрос в России (1 балл). Укажите партию, земельная программа которой была использовалась при создании этого документа (2 балла за правильно указанную партию). 1) Партия земской собственности (столыпинская)
2) Все земли отчуждаются безвозмездно, обращаются в собственность государства и переходят в пользование всех трудящихся.
Партия ЭС-СРов.

В) Какие идеи были положены в основу этого документа? Какой тип развития сельского хозяйства вытекал из предложенных положений? (максимум 3 балла)

В основу земельного указа положены идеи коммунизма и социализма.

Тип развития сель.хоз. - государственный
Экстенсивный

Задание 8. Перед вами фрагмент текста. Прочитайте его и выполните задания. Ответ запишите (10 баллов):

Из сочинения историка Н. М. Карамзина

«...Иван III принадлежит к числу весьма немногих государей, избираемых providением решить надолго судьбу народов: он есть герой не только российской, но и всемирной истории... Иоанн явился на театре политическом в то время, когда новая государственная система вместе с новым могуществом государей возникла в целой Европе. Россия около трёх веков находилась вне круга европейской политической деятельности... Хотя ничто не делается вару́г; хотя достохвальные усилии князей

московских, от Калиты до Василия Тёмного, многое приоткрыло для единовластия и нашего внутреннего могущества, но

Россия при Иоанне III как бы вышла из сумрака теней... Иоанн, рождённый и воспитанный данником степной Орды... сделался одним из знаменитейших государей в Европе; без учения, без наставлений, руководствуемый только природным умом... силою и хитростью восстанавливая свободу и целость России, губя царство Батыево, тесня... Литву, сокращая вольность новгородскую, захватывая уделы, расширяя владения московские...

Что оставил миру Александр Македонский? – Славу. Иоанн оставил государство, удивительное пространством, сильное народами, ещё сильнее духом правления. Россия Олега, Владимира, Ярослава погибла в нашествии монголов. Россия нынешняя образована Иоанном».

А) Укажите хронологические рамки периода правления Ивана III (1 балл). Почему Россия около трёх веков находилась вне круга европейской политической деятельности? (2 балла за верное обоснование).

35.
Потому что Россия была в зависимости от Золотой Орды.

Б) С какими двумя важнейшими процессами в истории российской государственности совпало княжение Ивана III? (3 балла за два верно указанных процесса). *1) Столбыные новы государственный светом. 2) Всеобщие слободы и независимости России.*

В) Какие события имел в виду историк, говоря о сокращении «вольности новгородской» и гибели «царства Батыева»? Укажите не менее двух событий. Ответ поясните (По 2 балла за каждое событие с пояснением). *Шоан третий III присоединил Новгород к русским землям, а в 1480г победы в станицах на реке Угре одерживал.*

Задание 9. Заполните пустые ячейки таблицы, используя представленные в приведённом ниже списке данные. Для каждой ячейки, обозначенной буквами, выберите номер нужного элемента. (6 баллов, по одному баллу за каждый верный ответ)

Принадлежность к партии	Лидер	Положение программы
-----А	-----Б	Социализация земли
-----В	П.Н. Милоков	Зависимость исполнительной власти от законодательной
Октябристы	-----Г	-----Д
-----Е	В.И. Ленин	Конфискация всех помещичьих земель

~~1. Кадеты~~

~~2. Эсеры~~

~~3. Большевики~~

4. Меньшевики

~~5. А.И. Гучков~~

~~6. В.М. Чернов~~

7. А.И. Дубровин

8. Сохранение исполнительной власти в руках монарха

9. Право наций на самоопределение вплоть до отделения.

А	Б	В	Г	Д	Е
2	6	1	3	8	9

Задание 10. Проведите анализ карты и ответьте на вопросы (10 баллов. По 2 балла за каждый правильный ответ):

А) Укажите название населённого пункта, обозначенного на схеме цифрой «2», у которого произошло крупнейшее танковое сражение войны. *2. Прохоровка*

Б) Укажите год, когда завершилось сражение, обозначенное на схеме цифрой «1».

2 февраля 1943г.

В) Укажите название города, обозначенного цифрой «7», который будет освобождён Красной армией в ходе операции «Багратион».

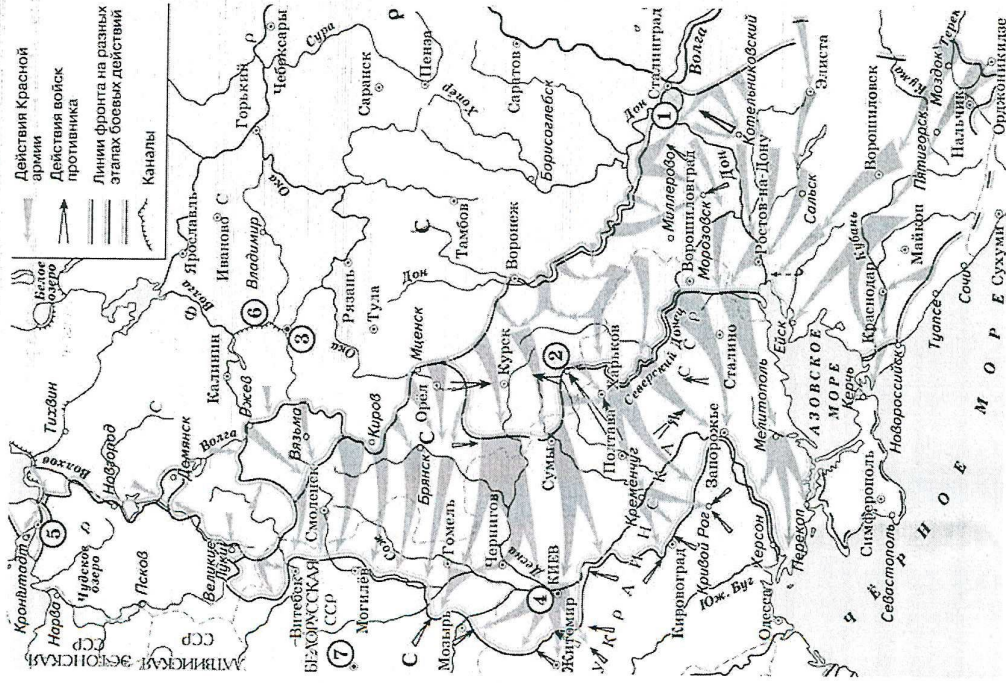
Минск

Г) Укажите цифру, которой обозначена на карте Москва.

8 3

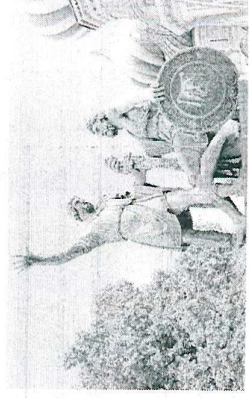

Д) Напишите год полного снятия блокады с города, обозначенного цифрой «5».

24 января 1944





Задание 11. Внимательно изучите предложенные Вам фотографии. Какие из представленных памятников были созданы в XIX веке (3 балла за полностью верный ответ).

А Б



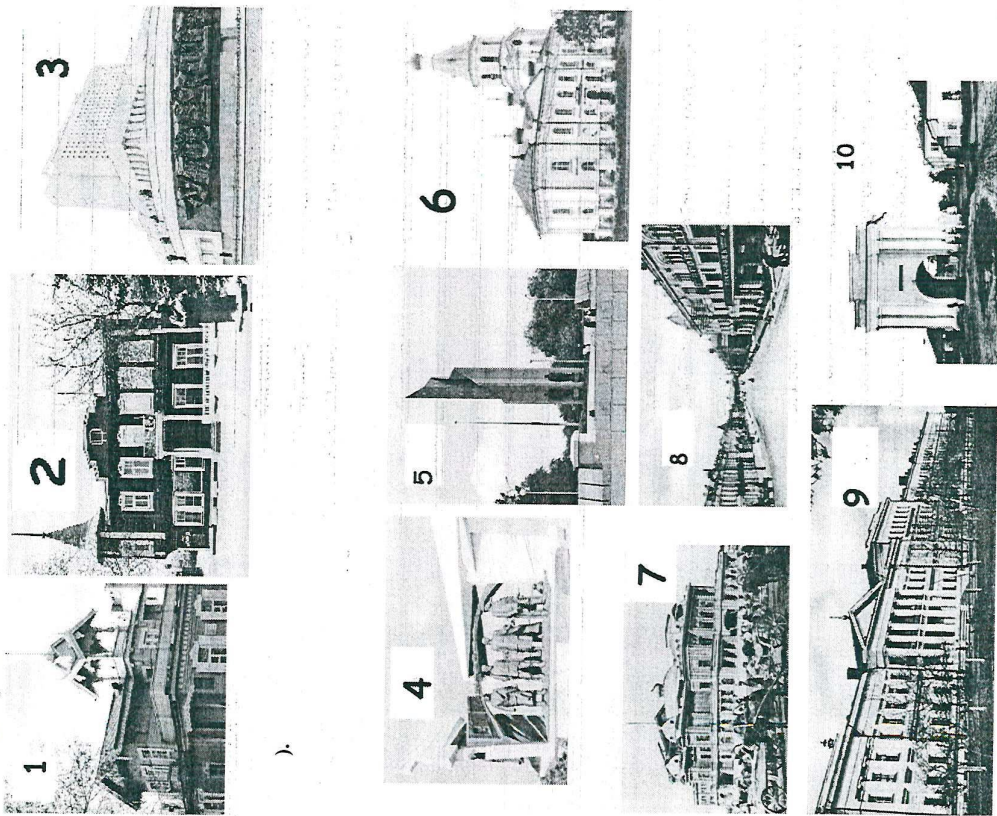
В Г



Ответ: АБГ

3б.

Задание 12. Вам представлены старые фотографии различных архитектурных объектов и памятников города Омска. Напишите их названия (10 баллов). По 1 баллу за каждый верный ответ



Ответ:

1 Конгрессная Белова 7

2	Музиков центр	+
3	Библиотека им. Пушкина	+
4	Памятник Труженникам Тоша	+
5	Скульптура Бурлаков победы	+
6	Вашингтонский собор	+
7	Драматический театр	+
8	Любимый проспект	+
9	Смешный кодексный корпус	+
10	Торговая верста	+

Задание 13. Историческое сочинение (Максимально 25 баллов за задание). 1005

Вашему вниманию представлены пять тем. Выберите одну из них, которая станет темой Вашего сочинения. При ответе укажите номер, выбранной Вами темы или перепишите её.

Ваша задача выразить собственное отношение и обосновать его аргументами, которые Вы считаете наиболее существенными.

При выборе темы исходите из того, что Вы:

Ясно понимаете смысл темы. Можете выразить своё отношение по данной проблеме. Располагаете конкретными историческими знаниями (факты, статистические данные, примеры) по данной теме. Владаете терминами, необходимыми для грамотного изложения своей точки зрения.

Критерии оценивания (максимально 5 баллов по каждому критерию):

1. Обоснованность выбора темы (объяснение выбора темы и задач, которые ставит перед собой в своей работе участник).
 2. Творческий характер восприятия темы, её осмысления.
 3. Грамотность использования исторических фактов и терминов.
 4. Чёткость и доказательность основных положений работы.
 5. Знание различных точек зрения по избранному вопросу.
- Объём сочинения не является определяющим, главное соответствие критериям.

Темы сочинения:

1. Влияние Золотой Орды на развитие Древней Руси в XIII-XV вв.
2. Петровские реформы и их оценка историками и современниками.
3. Отечественная война 1812 года и ее влияние на развитие России в первой половине XIX века.
4. Великие реформы 1860-1870-х годов и их противоречия.
5. Индустриализация СССР и ее роль в победе в Великой Отечественной войне.

Желаем удачи!

Ответ:

Тема сочинения: п1

XIII - XV не были самыми лучшими и не самыми страшными для нас Русского государства. Конечно, мы много потеряли, как и эконоимые, земельные. Как показывают нам наши историки, как много враги нам отвоевали и все, кем терпели как татары и как монголы. Но Золотая Орда стала самым темным для нашего государства. В XIII веке Россия терпит первый набег Золотой Орды.

Уже через сразу введут первое коритивное влияние зависимости России от Золотой Орды. Намекая раз у монголы отведали центр все-дальше и в будущем центр русского государства - это Москва. Конечно, это случилось благодаря помощи Ивана Калиты, который пошел вой воевать в Тверь против Сакнаки, но и зависимости. Все было бы зависимость не было бы такого сильного влияние к образованию.

Вскоре политические влияния Золотой Орды заканчиваются в Таи, это в начале 14-15 века. Конечно, образованием. Становление прекращает влияние князя черны

Князь Игорь северный из Новгорода совершил неудачный поход на половцев. А князю не удалось? А потому что все ходил один, без поддержки других князей. Также не было связи с Золотой Ордой. Тогда степно кезавшим мы много завоевывали в Европе. Государство воевать отбур врагу. Это сделал в 1805 Александр II на реке Аустерлиц.

Как показали исторические данные, мы удачные завоевал Орду. Мы несли на Россию очень даче политическую. Мы несли предвзятость раздробленности и международные войны между князьями. Также воевать воевать Россию.

L + J + 5 + J + D + 2
AS.